

# Isole britanniche

Le Isole britanniche sono un grande **arcipelago** tra l'Oceano Atlantico e il Mare del Nord. Le isole più grandi sono la **Gran Bretagna** e l'**Irlanda**. Dal punto di vista politico queste isole comprendono **due Stati**: il **Regno Unito di Gran Bretagna e Irlanda del Nord** e la **Repubblica d'Irlanda**.

Il **Regno Unito** comprende l'Isola della Gran Bretagna, il Nord-Est dell'Irlanda e molte piccole isole: Ebridi, Orcadi e Shetland.



La maggior parte del territorio dell'Irlanda appartiene alla **Repubblica d'Irlanda**, invece la parte nord-orientale appartiene al Regno Unito.



## Caratteristiche comuni e differenti

### Clima

Il clima di questo territorio è **atlantico**. Ci sono abbondanti precipitazioni e non c'è grande differenza tra le temperature estive e quelle invernali. Il clima è reso mite dalla **Corrente del Golfo**. Essa è una corrente oceanica d'acqua calda che nasce nel Golfo del Messico, attraversa l'Oceano Atlantico e tocca tutta l'Europa occidentale.

### Territorio

Il territorio ospita montagne basse, colline e pianure coperte da **prati** e **brughiera**.

### Lingua e cucina

In tutto l'arcipelago si parla una sola lingua, l'**inglese**. In alcune aree, però, sono presenti anche altre lingue: il **gaelico irlandese**, il **gaelico scozzese** e il **galles**. In tutta la Regione si mangia il **fish and chips**, pesce fritto e patatine fritte.



● La vegetazione cespugliosa della brughiera.

### Religione

Mentre nel Regno Unito sono più diffuse la **religione anglicana** e le **confessioni protestanti**, nella Repubblica d'Irlanda è diffusa soprattutto la **religione cattolica**.


### Popolazione

Nel **Regno Unito** quasi l'**80%** della popolazione abita in città.

In **Irlanda**, invece, **meno del 50%** della popolazione abita in città.

### Economia

L'economia inglese divenne molto sviluppata già a partire dal **1700**, quando iniziò l'**industrializzazione**. L'economia irlandese, invece, si sviluppò solo a partire dal **1973**, quando l'Irlanda entrò a far parte dell'Unione Europea.



● L'interno di una fabbrica inglese durante la Rivoluzione industriale.

Il **Regno Unito** è costituito da Inghilterra, Galles, Scozia, Irlanda del Nord e da 14 territori d'oltremare (le ex colonie). Esso è una **monarchia costituzionale**. La sua capitale è **Londra**, con più di 8 milioni di abitanti.

## Territorio e clima

Il territorio è costituito da **pianure, colline e basse catene montuose**. Le coste sono **frastagliate**. I fiumi hanno **corso breve** ma sono **navigabili**. A nord ci sono molti **laghi**. Il Regno Unito ha un **clima temperato** perché:

- l'Oceano Atlantico rende meno forte la differenza di temperatura tra estate e inverno;
- la Corrente del Golfo rende il clima più mite.

## Popolazione e società

Nel Regno Unito ci sono **più di 62 milioni di abitanti**. La popolazione si concentra in Inghilterra. Fino al 1945 il Regno Unito fu un **impero coloniale**, cioè governava su territori (le **colonie**) che si trovavano fuori dal Regno Unito. Per questo motivo la società del Regno Unito è **multietnica**, perché molti abitanti provengono dalle colonie. Circa la metà della popolazione è di **religione cristiana**.

● Piccadilly Circus, a Londra.

Colora sulla cartina il Regno Unito



## Economia

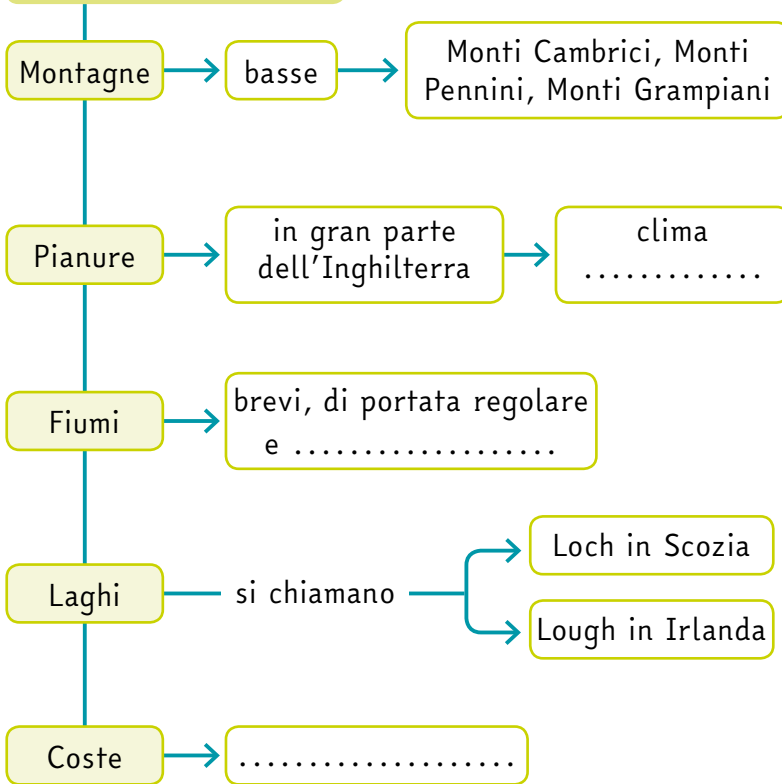
Dal '700 al 1945 il Regno Unito fu la prima potenza economica mondiale, grazie alla Rivoluzione industriale. Oggi il Regno Unito è il **sesto Paese al mondo per ricchezza prodotta (PIL)** e, per questo motivo, ha una grande importanza politica.

Il **principale settore economico** è il **terziario**, che rappresenta il 73% del PIL.

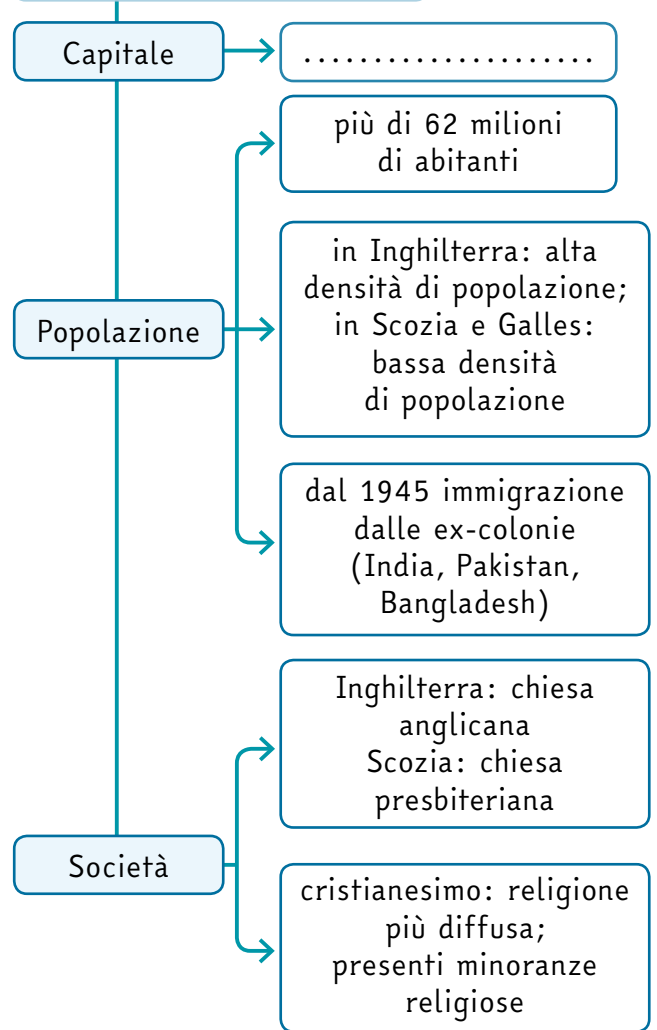




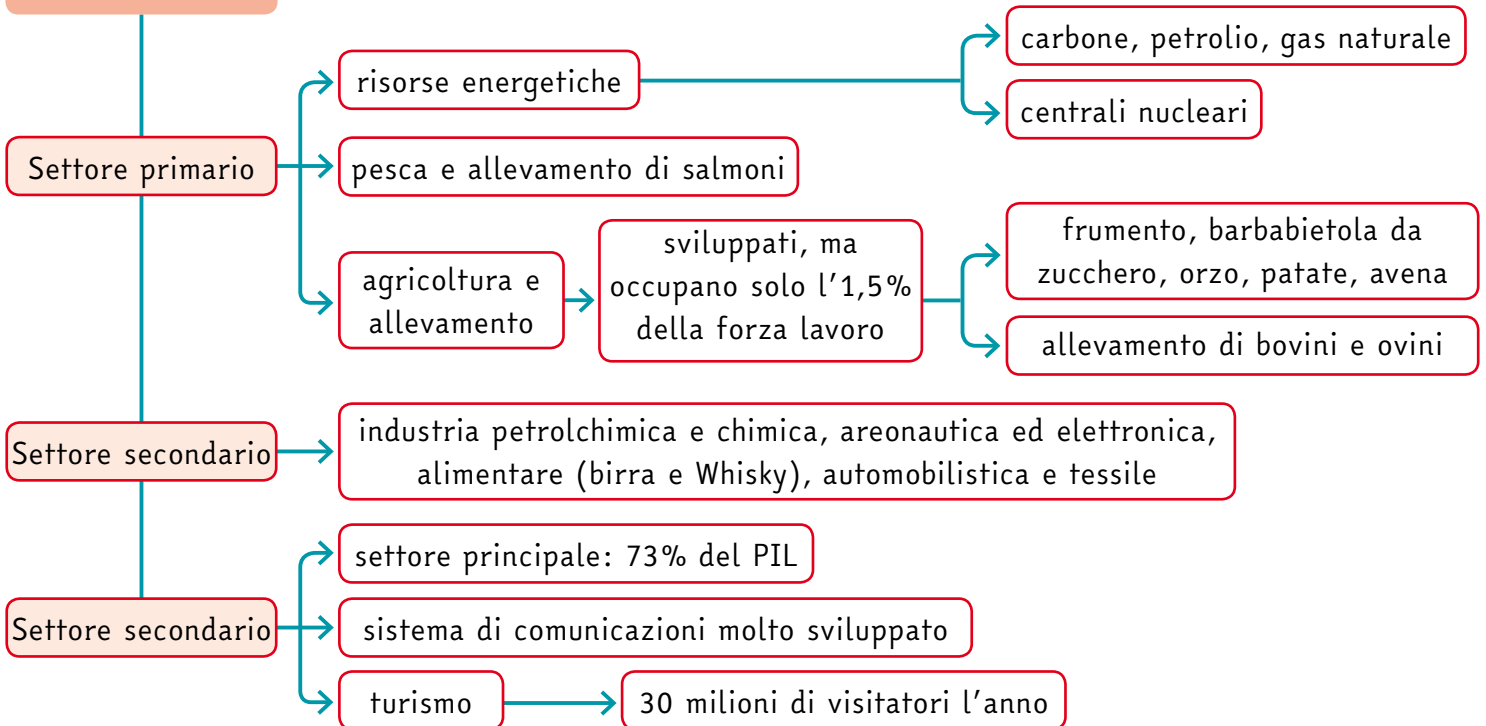
**TERRITORIO E CLIMA**



**POPOLAZIONE E SOCIETÀ**



**ECONOMIA**



L'Irlanda è una **repubblica parlamentare** dal 1921, quando gran parte del territorio dell'isola ha ottenuto l'indipendenza dall'Inghilterra.

Solo l'Irlanda del Nord continua a far parte del Regno Unito.

La capitale dell'Irlanda è **Dublino**.

## Territorio e clima

Il territorio vicino alla costa è **collinare** e **montuoso**, con **scogliere**.

Il territorio dell'interno è **pianeggiante**, con immensi **prati** e **pascoli**.

Il **clima** è **oceanico** ma è reso più mite dalla Corrente del Golfo.

Le **piogge** sono **frequentissime**, soprattutto nella zona occidentale dove soffiano i **venti** più forti d'Europa.

## Popolazione e società

In Irlanda abitano **4 milioni e mezzo** di persone. La maggior parte degli Irlandesi è di **etnia celtica**, ma molti sono di origine **anglosassone**. Le **lingue** ufficiali sono l'**irlandese** e l'**inglese**. Dalla fine del 1900 in Irlanda si sono trasferiti molti immigrati extra-comunitari, soprattutto nella zona di Dublino e nelle città della costa.

La maggioranza della popolazione è **cattolica**.

## Colora sulla cartina l'Irlanda



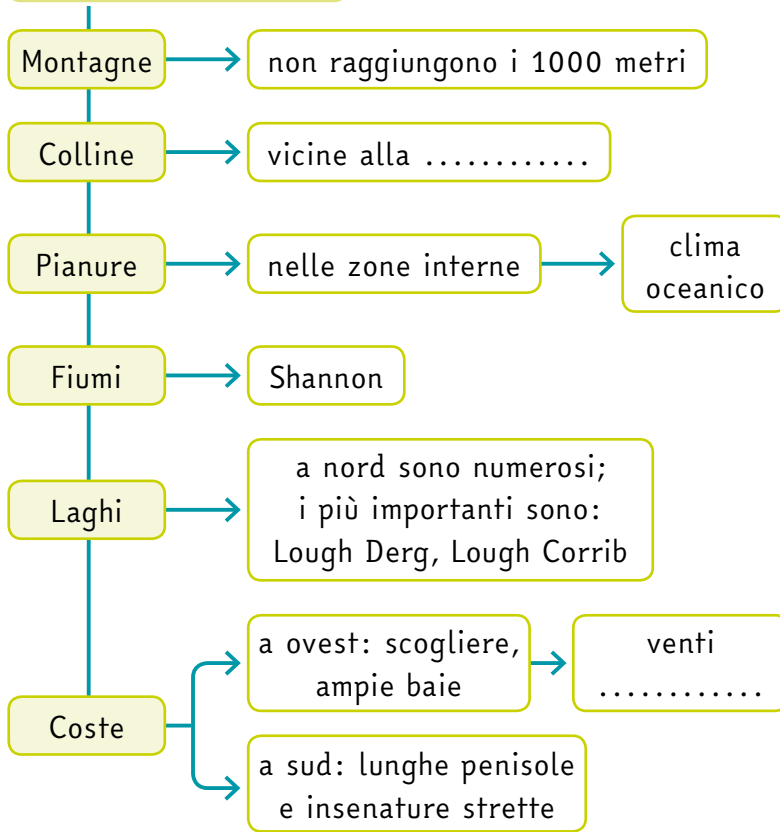
## Economia

Tra fine '800 e inizio '900, l'Irlanda era un Paese povero e molti Irlandesi emigravano. Dal **1973**, quando l'Irlanda è entrata a far parte dell'Unione Europea, l'**economia** si è **sviluppata** e l'Irlanda ha cominciato ad accogliere molti **immigrati**. Con la crisi **economica del 2008**, lo sviluppo economico dell'Irlanda è rallentato. Oggi i settori economici più importanti sono il **secondario** e il settore dei **servizi (terziario)**.

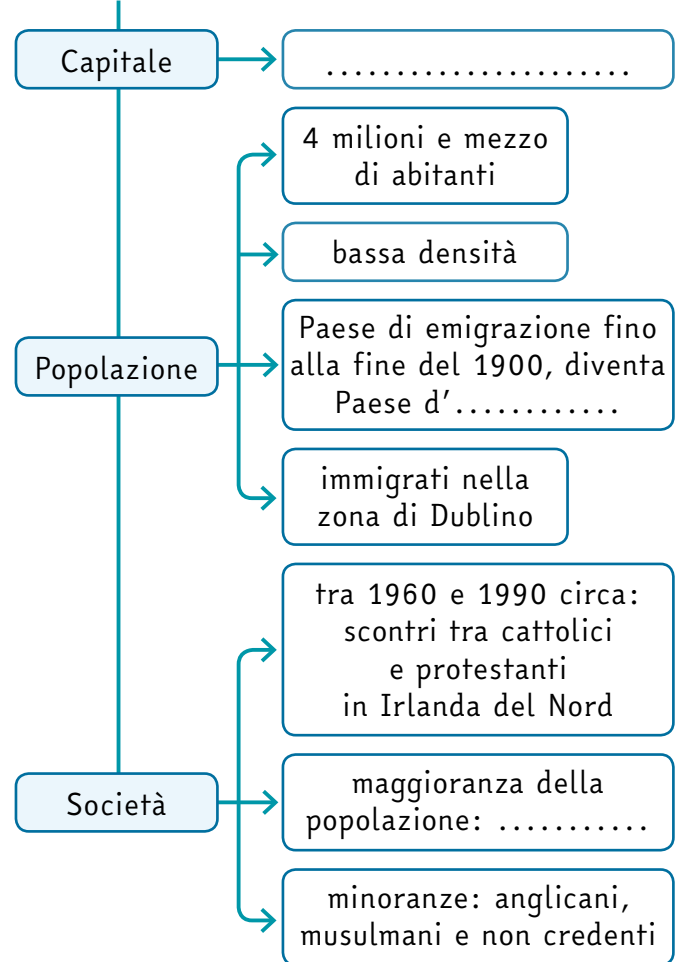


● Tipico paesaggio irlandese.

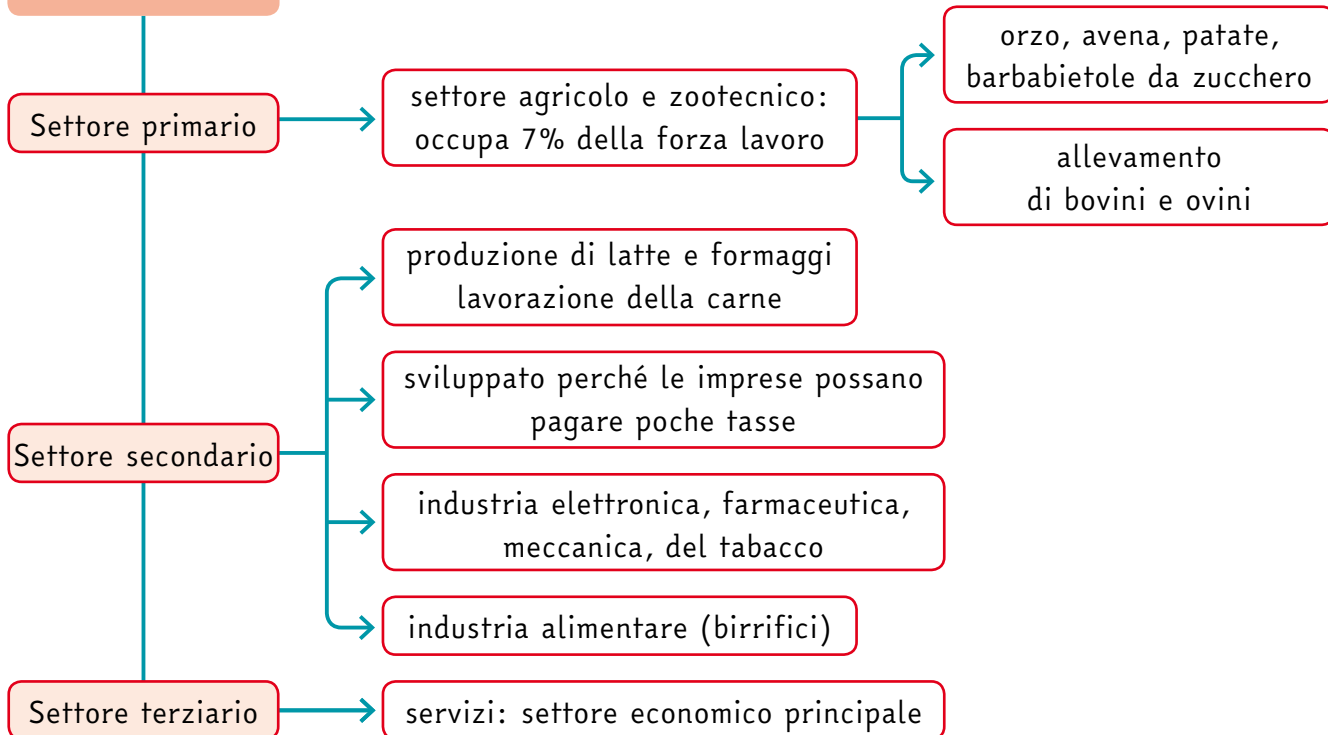
**TERRITORIO E CLIMA**



**POPOLAZIONE E SOCIETÀ**



**ECONOMIA**



# COSTRUISCI CARTE TEMATICHE

**1. Costruisci le carte.** Inserisci nella carta il numero corrispondente al nome dei luoghi. Poi collega con una freccia i simboli delle attività economiche allo Stato o agli Stati in cui sono praticate. Per fare questa attività cerca le informazioni sul libro **PROSPETTIVE** di popoli e scenari 2 alle pagine 146-163, osservando le carte fisiche e leggendo i paragrafi relativi all'economia.

- 1. Londra
- 2. Dublino
- 3. Tamigi
- 4. Highlands
- 5. Scozia
- 6. Cornovaglia
- 7. Mare del Nord
- 8. Londonderry



**1. Analizza i paesaggi europei.** L'immagine mostra il paesaggio di Portmahomack, nel nord della Scozia. Osserva con attenzione l'immagine, completa la descrizione e rispondi alle domande.



Usa le parole proposte e completa la descrizione.

tetti • camino • erba • bassa e sabbiosa • strada • singole • roccia • costa

La costa è costituita da strati di ..... che arrivano al mare; è presente anche un tratto di costa ..... nella parte più interna.

La parte di ..... che si trova più in alto è coperta da uno strato di ..... verde.

Sopra la piccola scogliera c'è una ....., riconoscibile per la presenza di auto parcheggiate. Le abitazioni sono ..... e non troppo grandi, abbastanza vicine le une alle altre e quasi uguali fra loro. I ..... sono spioventi e hanno sempre un .....

<b>Clima</b>	Secondo te, che tipo di clima può esserci a Portmahomack?
<b>Aspetto del paesaggio</b>	Quali elementi caratterizzano il paesaggio? Come sono distribuiti gli elementi che caratterizzano il paesaggio?
<b>Popolazione</b>	Secondo te, Portmahomack è un territorio molto o poco densamente abitato?
<b>Economia</b>	Secondo te, quali attività economiche possono essere svolte a Portmahomack?