

Regione centro-occidentale

La Regione centro-occidentale confina con l'Oceano Atlantico a nord e a ovest, e con il Mar Mediterraneo a sud. Essa è delimitata a est dalle Alpi, dai Monti del Giura e dal fiume Reno che segna il confine con la Germania. La Regione centro-occidentale comprende cinque Stati: Francia, Belgio, Paesi Bassi, Lussemburgo e Principato di Monaco.



La Francia è il più vasto Paese dell'Unione Europea. Essa comprende anche la Corsica e numerose regioni d'oltremare.

Il Belgio è un piccolo Stato che si trova a nord-est della Francia e si affaccia sul Mare del Nord.



I Paesi Bassi si chiamano così perché circa la metà del loro territorio si trova sotto il livello del mare.



Il Lussemburgo è un piccolo Stato che si trova tra Germania, Francia e Belgio.



Il Principato di Monaco è un piccolissimo Stato indipendente che si affaccia sul Mediterraneo.



Caratteristiche comuni e differenti

Territorio

Il territorio è per la maggior parte **pianeggiante** e presenta rilievi bassi, a eccezione delle alte catene montuose dei **Pirenei** e delle **Alpi** nella parte meridionale della regione. In tutta la Regione centro-occidentale, la **rete urbana** è molto **sviluppata**.

Economia

Il territorio prevalentemente pianeggiante ha permesso lo sviluppo di un'**agricoltura** e di un'**industria avanzate e produttive**. Lo sviluppo del **terziario avanzato**, con banche e centri finanziari, caratterizza l'economia di tutta la Regione centro-occidentale.

Religione

La religione più diffusa è il **cristianesimo**, ma sono presenti anche minoranze di musulmani, ebrei e protestanti.



Territorio

La **Francia** ha un territorio molto esteso e con molte **differenze** dal punto di vista del clima e del paesaggio. In **Belgio** e in **Lussemburgo** il territorio è in parte **pianeggiante** e in parte **collinare**. I **Paesi Bassi** invece sono **pianeggianti**. Belgio, Lussemburgo e Paesi Bassi occupano dei territori poco estesi.

Popolazione e società

La Francia, tranne Parigi, ha una densità di popolazione bassa. Gli altri Stati, invece, sono densamente abitati. Anche le forme di governo sono diverse: la **Francia** è una **repubblica semipresidenziale**, mentre gli **altri Stati** sono **monarchie parlamentari**.

Lingua

Nella Regione centro-occidentale si parlano **diverse lingue**. In Francia e nel Principato di Monaco la lingua ufficiale è il **francese**. In Belgio le lingue ufficiali sono due: il **fiammingo** e il **francese**. Nei Paesi Bassi la lingua ufficiale è l'**olandese**. In Lussemburgo le lingue ufficiali sono tre: il **francese**, il **tedesco** e il **lussemburghese**.

- Le Ardenne sono una regione collinare tra Belgio, Lussemburgo e Francia.

La Francia è una **repubblica semipresidenziale**. La sua capitale è **Parigi**, centro culturale, politico ed economico del Paese.

Territorio e clima

Il territorio della Francia può essere diviso in due grandi regioni:

- la **Regione nord-occidentale** è occupata dalle pianure dei fiumi Senna, Loira e Garonna. Il clima è **atlantico** e diventa **continentale** nell'interno;
- la **Regione sud-orientale** è occupata dai rilievi: Ardenne, Vosgi, Giura, Massiccio Centrale e Alpi.

Il **clima** è **continentale** al centro e **alpino** nei rilievi più elevati.

A **sud-ovest** il territorio è occupato dalla catena montuosa dei **Pirenei** e a sud da coste basse e rocciose, con un clima **mediterraneo**.

Popolazione e società

La popolazione supera i **65 milioni di abitanti**. Più di **12 milioni** di abitanti vivono nella **regione parigina**. Oggi il 10% della popolazione francese è costituito da **immigrati** o figli di immigrati **naturalizzati** (cioè che hanno acquisito la cittadinanza francese). In Francia c'è **libertà di culto**, cioè ognuno può praticare la religione che vuole.

Colora sulla cartina la Francia



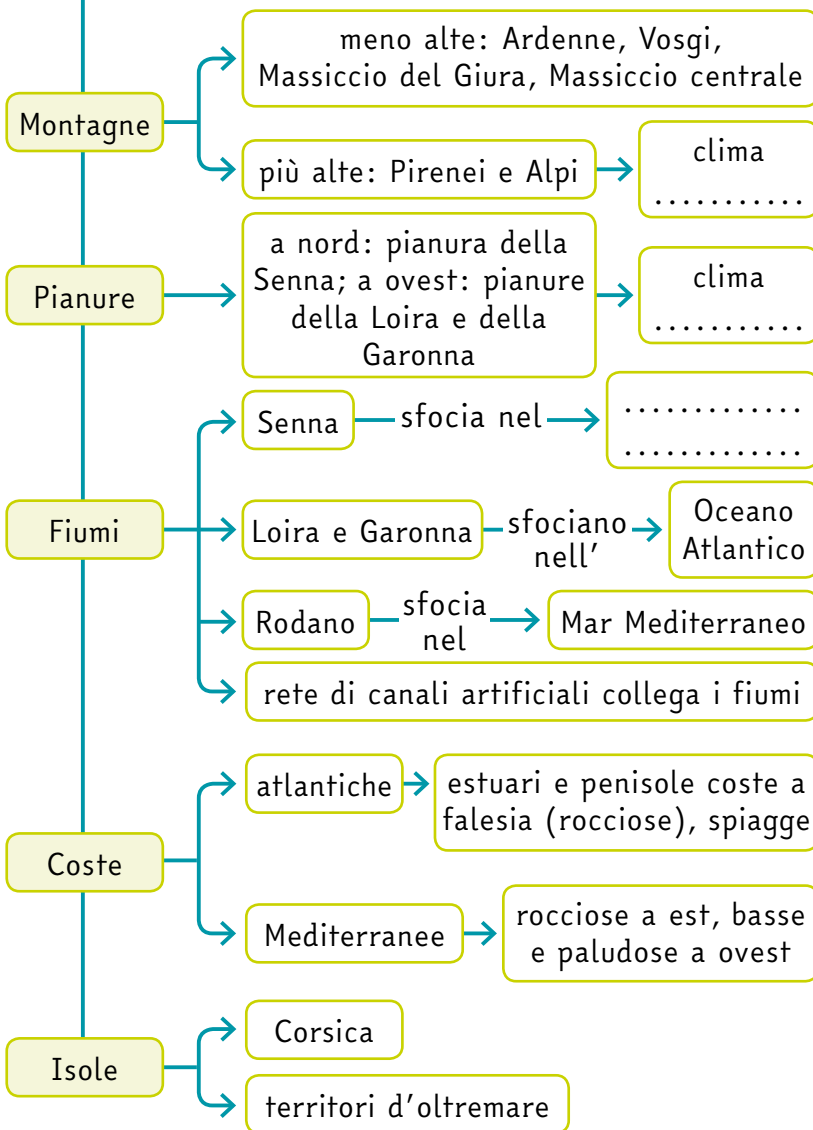
Economia

La Francia è uno dei Paesi più sviluppati al mondo. La **zona di Parigi** è il centro produttivo della Francia ma anche molte **città del sud** sono economicamente importanti. Le imprese più sviluppate dell'industria francese operano nei **settori strategici: nucleare, informatico, aerospaziale e ferroviario**. Anche il settore della **grande distribuzione organizzata**, che si occupa dei supermercati, è molto forte.

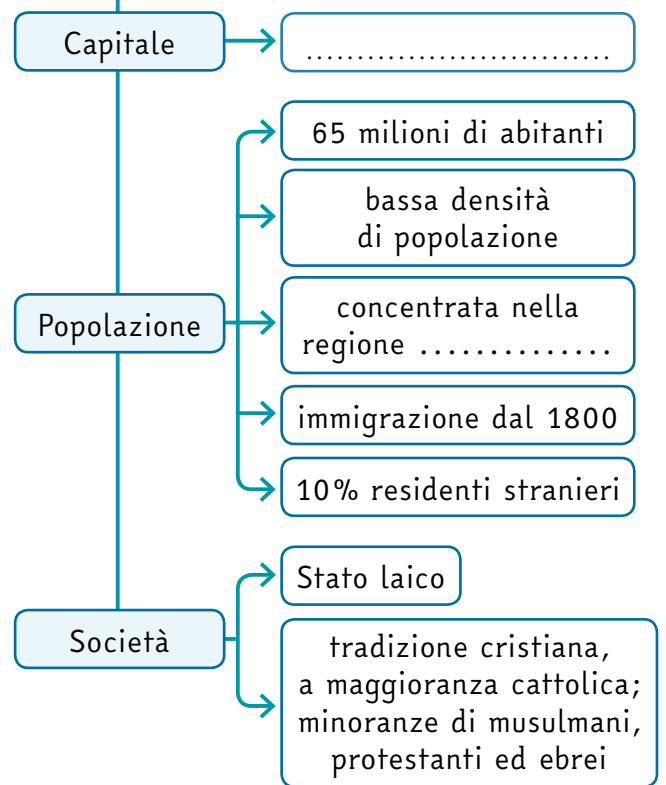


- Una vigna in Borgogna, regione centro-orientale della Francia. La Francia è uno dei maggiori produttori di vino al mondo.

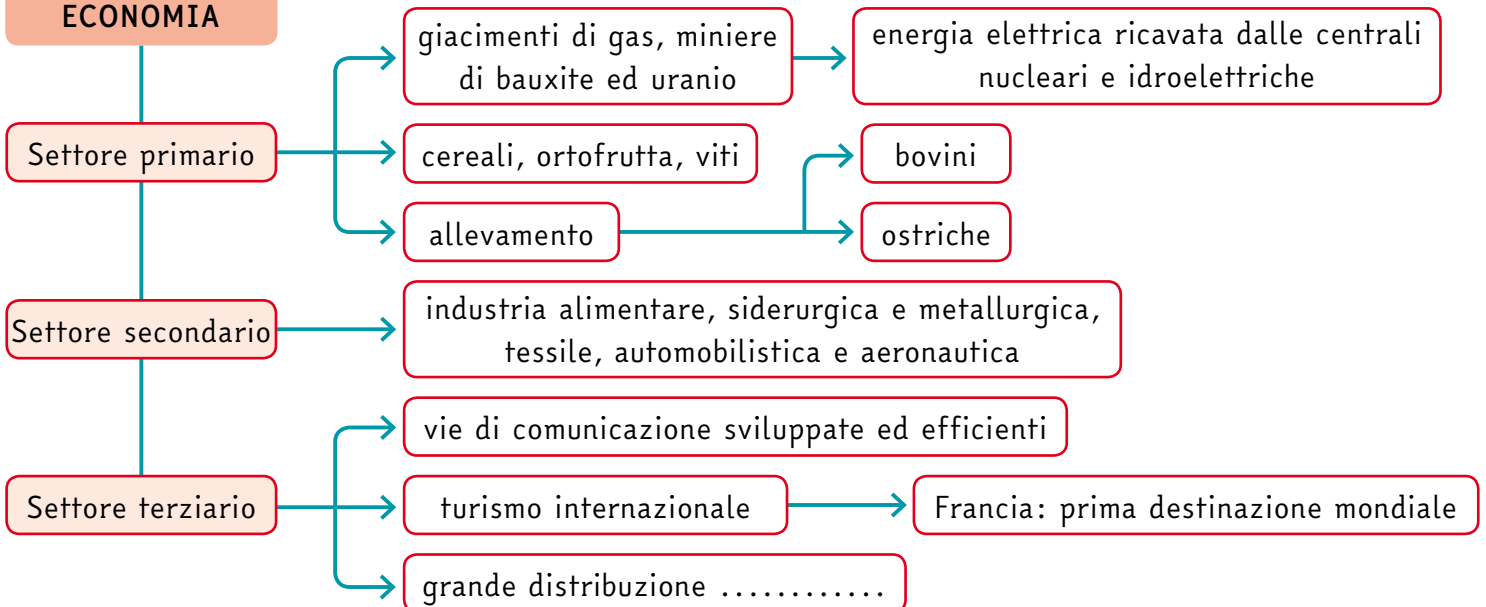
TERRITORIO E CLIMA



POPOLAZIONE E SOCIETÀ



ECONOMIA



Il Belgio è un piccolo **Stato federale** diviso in **tre regioni**: Fiandre, Vallonia e Bruxelles-capitale.

Il Belgio è una **monarchia parlamentare**. La capitale è **Bruxelles**, sede di importanti istituzioni europee.

Territorio e clima

Il territorio del Belgio è per la maggior parte **pianeggiante**. La parte meridionale è occupata dalle colline delle **Ardenne**.

Il Belgio si affaccia sul Mare del Nord e ha coste basse e sabbiose.

I maggiori fiumi sono la **Schelda** e la **Mosa** e sono collegati fra loro da molti canali navigabili.

Il clima è **atlantico** ma diventa **continentale** nelle Ardenne.

Popolazione e società

Gli **abitanti** del Belgio sono **meno di 11 milioni**. Il 97% dei residenti abita nelle città.

A nord, nelle **Fiandre**, vivono i **Fiamminghi**, che parlano il fiammingo, una lingua simile all'olandese. A sud, in **Vallonia**, vivono i **Valloni** (che parlano il francese) e una piccola comunità tedesca. Nella **Regione di Bruxelles** abitano soprattutto **Valloni** e si parlano due lingue: il fiammingo e il francese.

La maggioranza della popolazione è **cattolica**.

Colora sulla cartina il Belgio



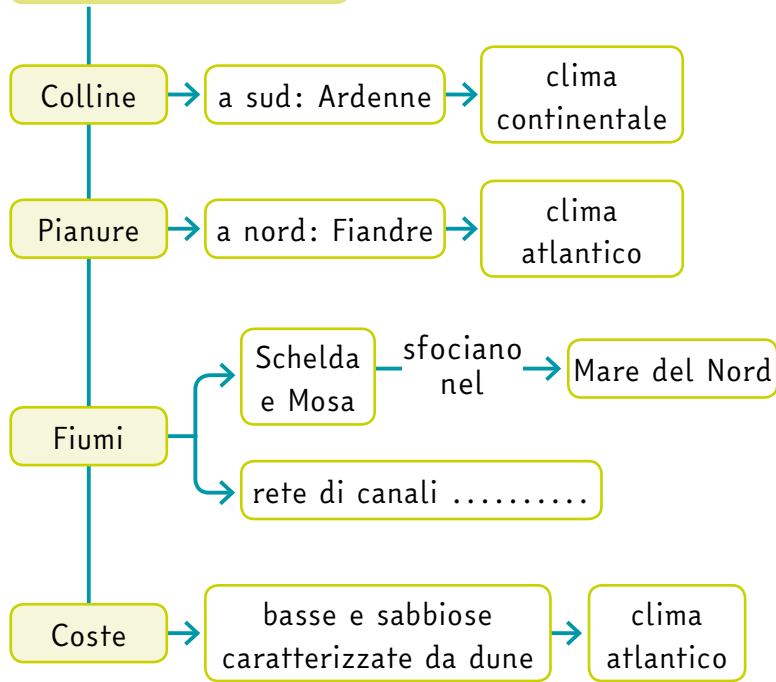
Economia

L'economia belga è molto sviluppata grazie a un'ottima **rete di collegamenti** che ha reso più facili gli scambi commerciali. Il **porto di Anversa**, infatti, è uno dei più attivi al mondo. I settori economici più importanti sono il **terziario** e il **terziario avanzato**, con attività commerciali e banche.

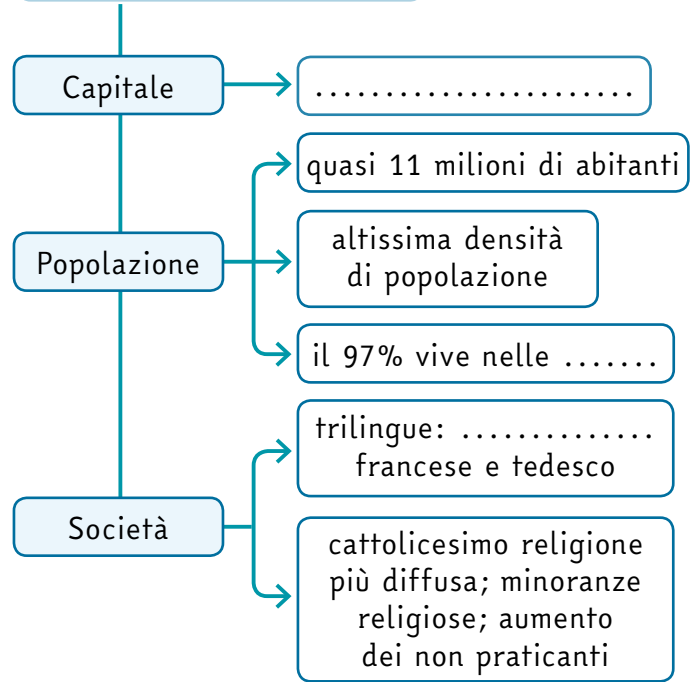


● Antichi palazzi nella piazza centrale di Bruxelles.

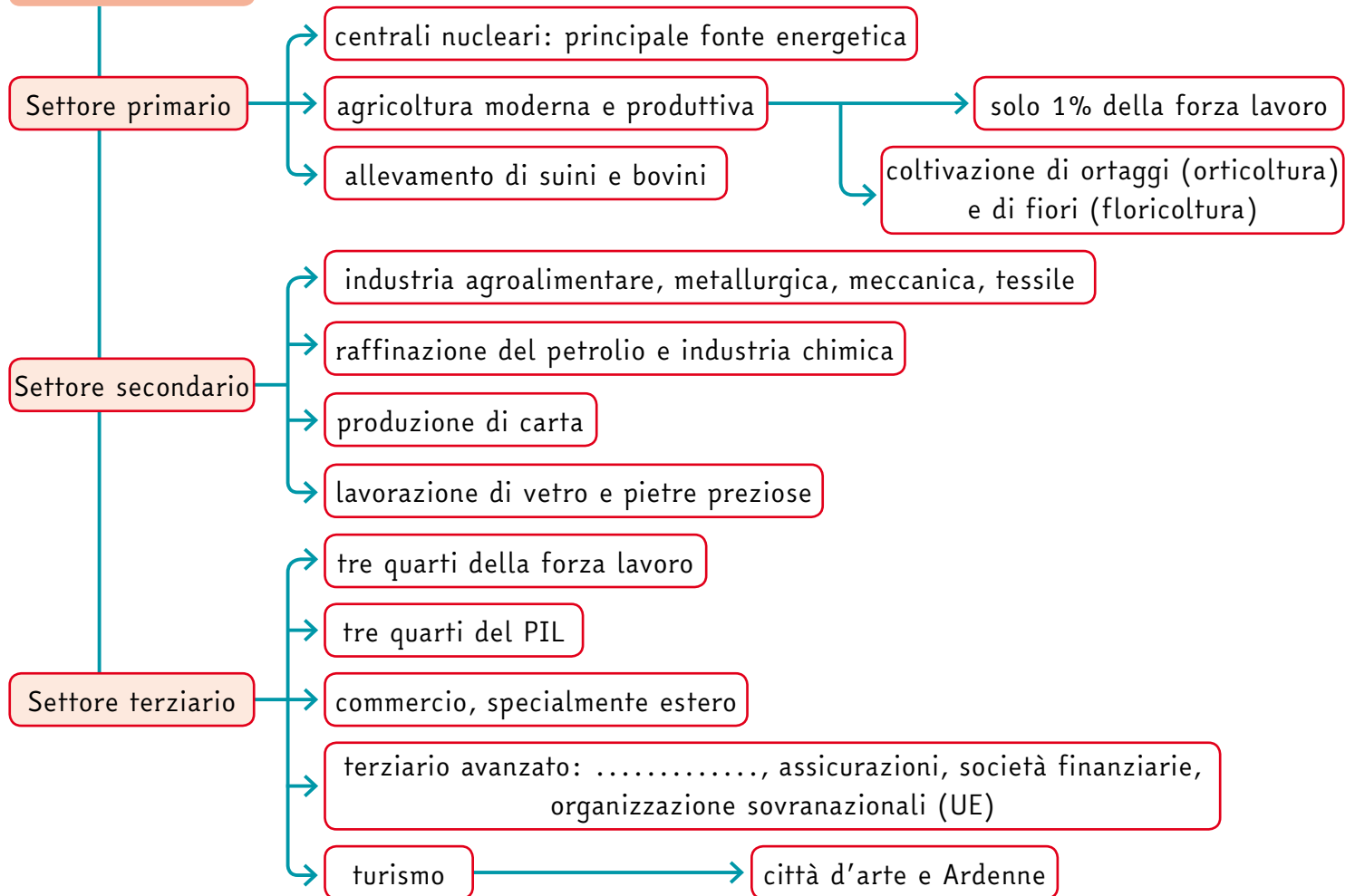
TERRITORIO E CLIMA



POPOLAZIONE E SOCIETÀ



ECONOMIA



I Paesi Bassi sono conosciuti anche come **Olanda**: si chiama così infatti la provincia più popolata del Paese. I Paesi Bassi sono un piccolo Stato governato da una **monarchia parlamentare**. La capitale è **Amsterdam**, ma il governo ha sede a L'Aia.

Territorio e clima

Il territorio è **pianeggiante** e, per oltre la metà, si trova **sotto il livello del mare**. L'uomo è riuscito a strappare al mare alcune terre, grazie a **dighe** che impediscono all'acqua di allagare queste terre. Le terre strappate al mare si chiamano **polders**. I Paesi Bassi si affacciano sul Mare del Nord con coste basse e sabbiose. Davanti alle coste si trovano le **Isole Frisone occidentali**. I maggiori fiumi sono il **Reno** e la **Mosa**. Il clima è **atlantico**.

Popolazione e società

Nei Paesi Bassi vivono **più di 16 milioni di abitanti**. La **densità di popolazione** dei Paesi Bassi è **tra le più alte** in Europa. Molti Olandesi sono di origine straniera e provengono dalle **ex-colonie**, cioè da territori che un tempo appartenevano ai Paesi Bassi. La **religione** principale è il **cristianesimo**. La **lingua** ufficiale è l'olandese.

Colora sulla cartina i Paesi Bassi



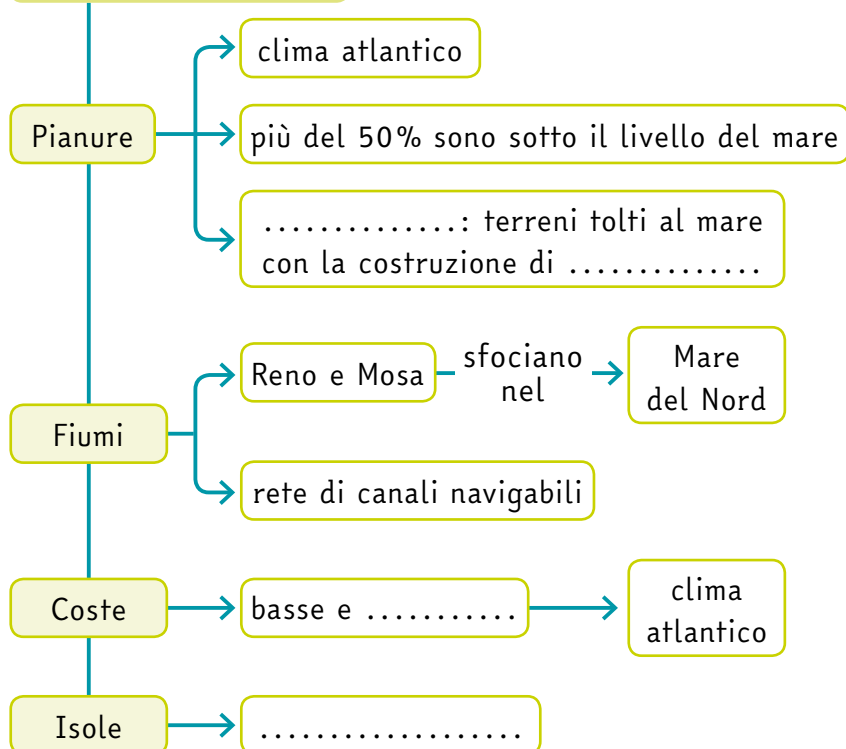
Economia

L'economia olandese è tra le più avanzate del mondo. L'**agricoltura** è un settore importantissimo: si coltivano soprattutto **fiori**, pomodori e peperoni. Le **industrie** più produttive sono quelle **alimentari** ed **elettroniche**. Il **settore terziario** è importante per il **commercio internazionale**.



● Un canale di Amsterdam.

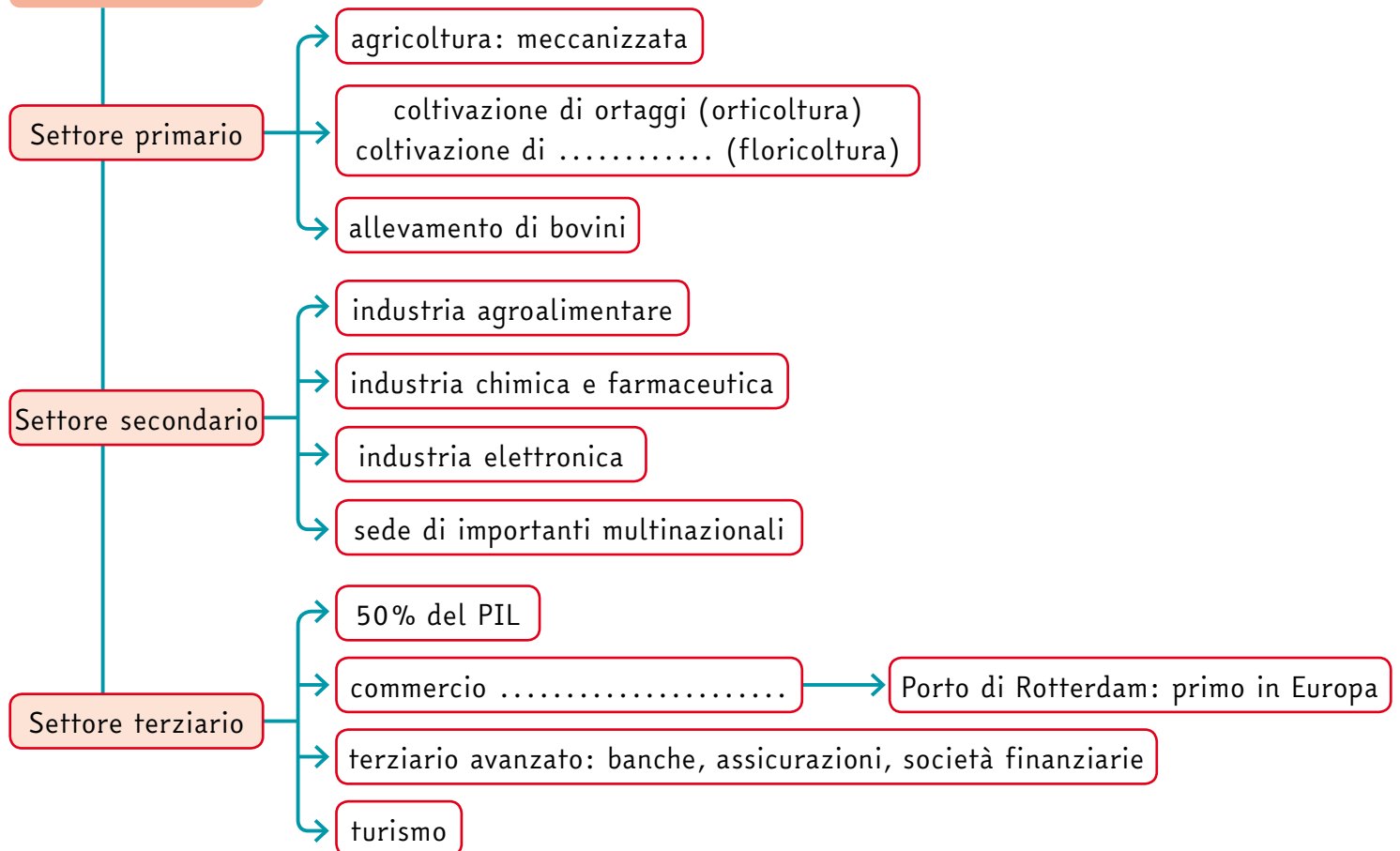
TERRITORIO E CLIMA



POPOLAZIONE E SOCIETÀ



ECONOMIA



LUSSEMBURGO

Il Granducato di Lussemburgo è un piccolo Stato governato da una **monarchia costituzionale**. La sua capitale è **Lussemburgo**.

Il territorio del Granducato di Lussemburgo è occupato a nord dalle **Ardenne** e a sud da una **pianura fertile**.

La popolazione del Granducato di Lussemburgo è costituita per il **30%** da **stranieri** (soprattutto europei). Essi lavorano nelle banche e nelle istituzioni dell'Unione Europea che si trovano in questo piccolo Stato.

Le lingue parlate nel Granducato di Lussemburgo sono il **francese**, il **tedesco** e il **lussemburghese**.

Molte imprese straniere si sono stabilite nel Granducato di Lussemburgo perché questo Stato fa pagare poche tasse alle imprese, cioè applica un **regime fiscale favorevole**.



● Foto da satellite del Lussemburgo.

Colora sulla cartina il Lussemburgo



● La città di Lussemburgo.

PRINCIPATO DI MONACO

Il Principato di Monaco è uno Stato piccolissimo che si affaccia sul Mar Mediterraneo.

Il Principato di Monaco è diventato uno **Stato indipendente** nel **1297**, quando il genovese Francesco **Grimaldi** prese il controllo della zona. Da allora il territorio è governato sempre dalla **stessa famiglia**. La lingua ufficiale è il **francese**.

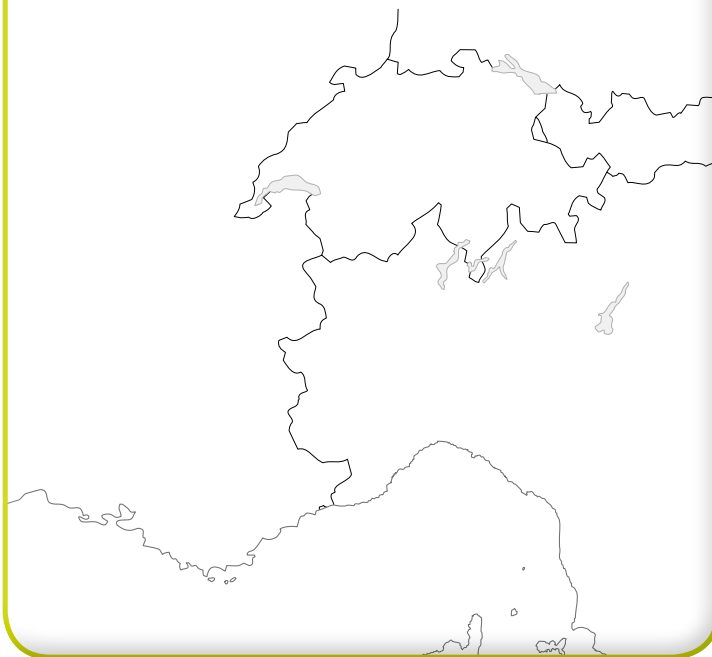
Il quartiere più conosciuto e prestigioso è **Montecarlo**, noto per il casinò e per il circuito automobilistico di Formula 1.

Il Principato di Monaco applica un regime fiscale favorevole che attira molto denaro dall'estero.

Le **attività finanziarie** e il **turismo** costituiscono la principale fonte di ricchezza del Principato di Monaco.



Colora sulla cartina il Principato di Monaco

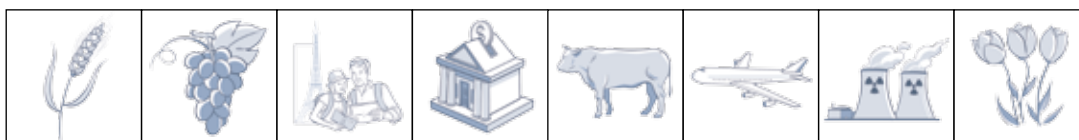


● Una piazza di Montecarlo: sullo sfondo il casinò e il mare.

COSTRUISCI CARTE TEMATICHE

1. Costruisci le carte. Inserisci nella carta il numero corrispondente al nome dei luoghi. Poi collega con una freccia i simboli delle attività economiche allo Stato o agli Stati in cui sono praticate. Per fare questa attività cerca le informazioni sul libro **PROSPETTIVE** di popoli e scenari 2 alle pagine 96-121, osservando le carte fisiche e leggendo i paragrafi relativi all'economia.

1. Senna 2. Rodano 3. Massiccio Centrale
4. Ardenne 5. Monaco 6. Bruxelles 7. Amsterdam 8. Parigi



1. Osserva e ricava informazioni dalle foto da satellite. Osserva le foto da satellite, poi scegli le parole corrette e completa le descrizioni. Per fare questo esercizio, osserva anche la carta fisica che trovi a pagina 96 del libro PROSPETTIVE di popoli e scenari 2.

ponte • grigie • Mare del Nord • campi coltivati • porto



1

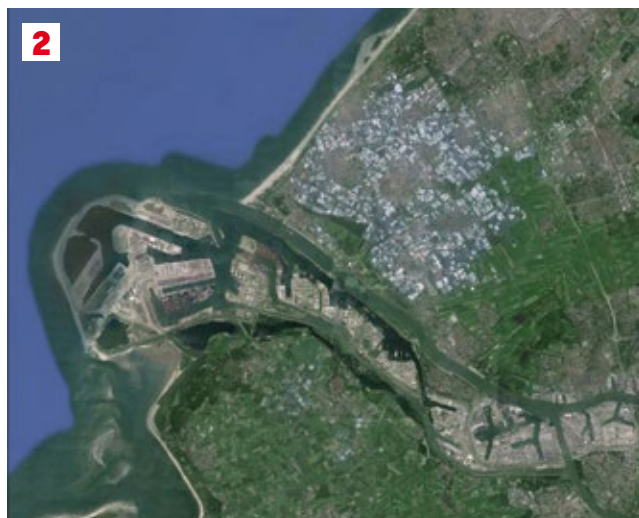
● La regione olandese della Zelanda.

Nella foto satellitare 1 sono rappresentati i **polders**, terre artificiali create dall'uomo che le ha strappate al mare.

Le aree di colore verde corrispondono a

In alto a sinistra si vede il che penetra tra le isole collegate tra loro da un

È visibile anche un isolotto di sabbia.



2

● Rotterdam.

Nella foto satellitare 2 le aree di colore verde corrispondono alla pianura coltivata, mentre le aree

..... corrispondono alle città e alle zone industriali.

A sinistra si vede il Mare del Nord in cui sfocia il fiume su cui è costruito il di Rotterdam.

Ora completa il testo.

Le due foto raffigurano un **ambiente costiero pianeggiante**. L'uso dell'ambiente da parte dell'uomo è diverso: nella foto 1 abbiamo un paesaggio, nella foto 2 abbiamo un paesaggio