

Regione germanica

La Regione germanica si affaccia a nord sul Mar Baltico e sul Mare del Nord, mentre a sud è delimitata dalla catena delle Alpi. Essa comprende i territori di **Germania, Svizzera, Austria e Liechtenstein**.

La **Svizzera** è un piccolo Paese in gran parte occupato dalle Alpi Svizzere. La Svizzera non ha sbocchi sul mare.



La **Germania** si trova nel cuore dell'Europa e confina con 9 Paesi. È il Paese più popoloso e ricco d'Europa.



L'**Austria** è un Paese senza sbocchi sul mare e si trova nella parte nord-orientale dell'arco alpino.



PRINCIPATO DEL LIECHTENSTEIN

Il Principato del Liechtenstein è situato nella Valle del Reno, tra la Svizzera e l'Austria. Il Liechtenstein è una **monarchia costituzionale**. La **capitale** è **Vaduz**. Il Liechtenstein ha il **PIL pro capite più alto al mondo** grazie alla sua condizione di paradiso fiscale.



Caratteristiche comuni e differenti

Economia

Grazie alla sua posizione nel cuore dell'Europa e ai tanti fiumi navigabili, fin dal Medioevo la Regione germanica è stata al centro di scambi commerciali e culturali tra Paesi atlantici e Paesi dell'Est, tra Paesi nordici e Paesi mediterranei.

I fiumi **Reno**, **Meno** e **Danubio**, infatti, sono collegati con una rete di canali che mette in comunicazione il Mare del Nord con il Mar Nero.

Lingua

A partire dai primi secoli d.C. la Regione germanica è stata abitata da popolazioni germaniche. Il tedesco, infatti, è la lingua parlata in tutta la regione, anche se in Svizzera ci sono alcune minoranze linguistiche.



- I fiumi della Regione germanica sono quasi tutti navigabili e sono un'importante via di comunicazione.

Territorio

I paesaggi della Regione germanica sono molto **diversi** fra loro. A sud e a est ci sono le alte cime delle **Alpi**. A nord c'è la vasta pianura del **Bassopiano Germanico** che termina nelle coste basse e sabbiose affacciate sul Mare del Nord e sul Mar Baltico. Il paesaggio dei confini occidentale e orientale è molto vario. A **ovest** si trova il **bacino del Reno**, e a **est** si trovano la **Selva Boema** e i **Monti Metalliferi**.

Clima

Anche i climi della Regione germanica hanno caratteristiche varie.

A **sud** il **clima** è **alpino**, al **centro** è soprattutto **continentale**, a **nord** è **atlantico** perché viene influenzato dal mare che rende il clima più mite.



- Le Alpi in Svizzera.

La Germania è una **repubblica federale**, costituita da 16 Stati detti **Laender** che hanno molta autonomia. La capitale della Germania è **Berlino**.

Territorio e clima

Il territorio può essere suddiviso in tre zone:

- il **Bassopiano Germanico** occupa la parte **nord** ed è attraversato da fiumi. Esso si affaccia sul mare e presenta coste basse e sabbiose. Qui il clima è **atlantico**;
- le **Montagne Medie** si trovano a sud del Bassopiano Germanico. Esse sono rilievi poco elevati come il **Massiccio Scistoso Renano**, i **Monti Metalliferi** e la **Selva Nera**. Il clima è **continentale**;
- le **Montagne Alte** occupano la parte meridionale e sono rilievi elevati (Alpi e Prealpi Bavaresi). Qui il clima è **alpino**.

Popolazione e società

La Germania è lo **Stato europeo più popoloso** ed è densamente abitata. La popolazione tedesca supera gli **82 milioni di abitanti**. Da alcuni decenni l'aumento della popolazione è dovuto all'**immigrazione** (Italiani, Spagnoli, Portoghesi, Greci, cittadini della ex-Jugoslavia, Turchi ed Europei dell' Est). La religione più diffusa è il **cristianesimo**, ma il Paese difende la **libertà di culto**.

Colora sulla cartina la Germania



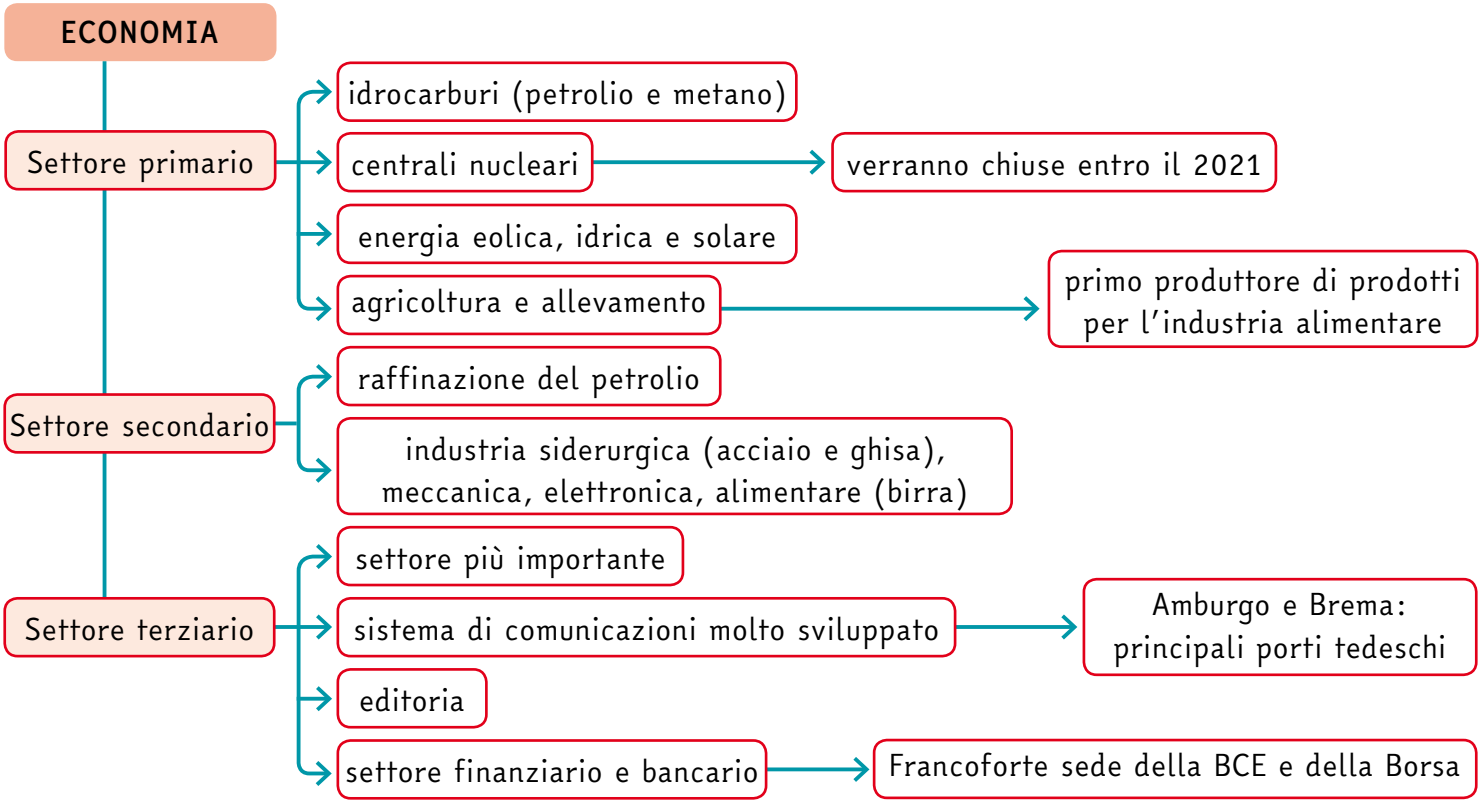
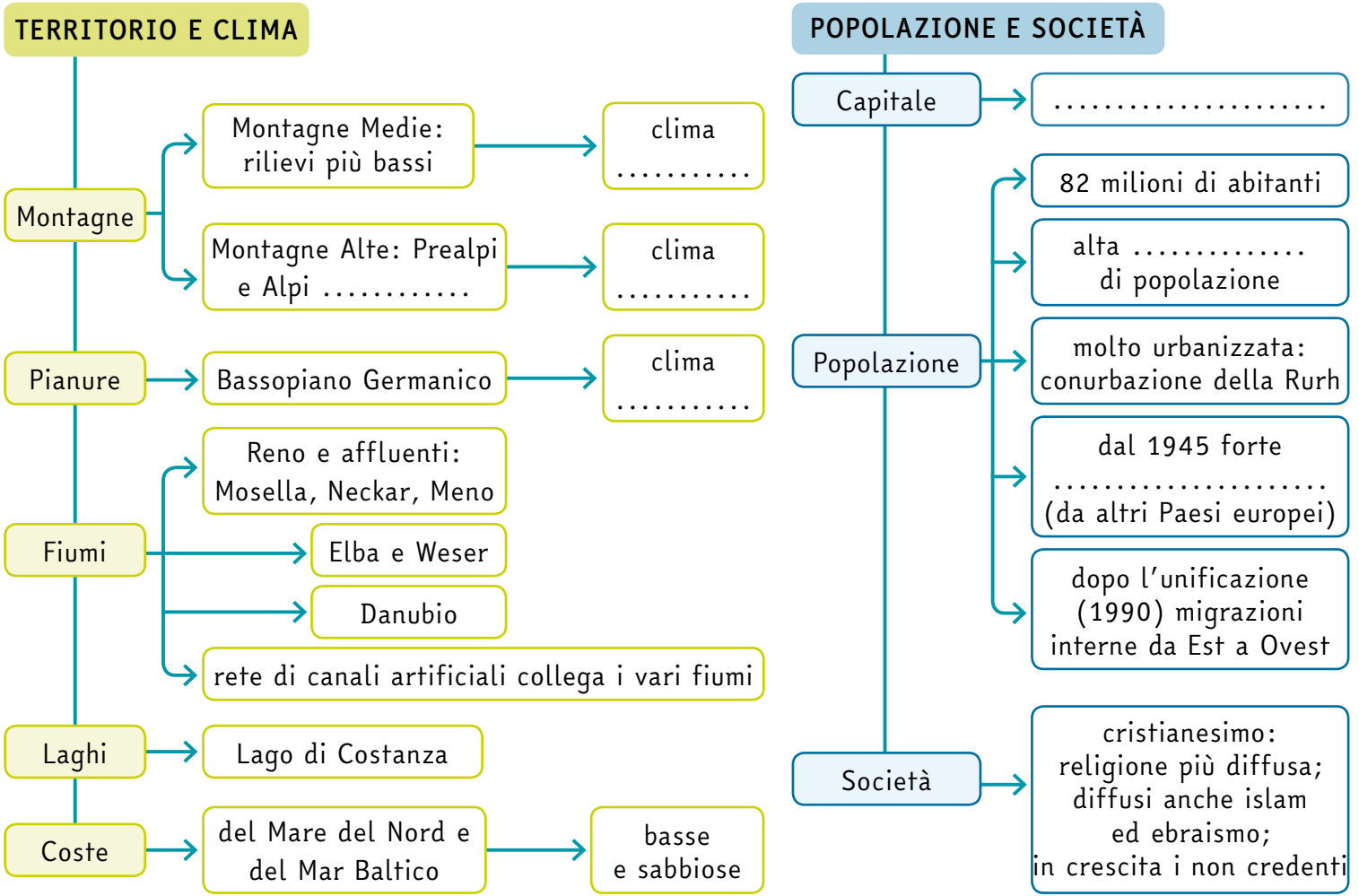
Economia

La Germania ha un **PIL molto elevato** ed **esporta** prodotti industriali tecnologicamente avanzati.

Per motivi storici, la zona Est era uno Stato separato dal resto del Paese ed era meno sviluppata. Nel 1990 la zona Est e la zona Ovest sono state **riunificate** e le condizioni economiche della zona Est sono migliorate.



● La Porta di Brandeburgo, simbolo della Berlino unita.



La Svizzera è una **Confederazione** di tre Stati, detti **cantoni**. I cantoni svizzeri sono il cantone tedesco (che è il più grande), il cantone francese e il cantone italiano. La capitale della Svizzera è **Berna** e si trova nel cantone tedesco.

Territorio e clima

Il territorio è in gran parte **montuoso**, senza sbocchi sul mare ed è occupato dalle **Alpi Svizzere**. Qui il clima è **alpino**.

Il territorio è percorso da fiumi che sfociano in mari differenti: il **Rodano** sfocia nel Mar Mediterraneo, il **Reno** sfocia nel Mare del Nord, e l'**Inn** scorre verso il Mar Nero. Il clima è **alpino**. A **nord** si estende una **zona collinare** dove sono presenti molti **laghi alpini**.

Qui il clima è più **temperato**.

Popolazione e società

Gli **abitanti** della Svizzera sono **quasi 8 milioni** e appartengono a **quattro gruppi linguistici**: tedesco, francese, italiano e romancio. Il 20% della popolazione è costituito da **immigrati** e sono molti anche i **frontalieri**, cioè i lavoratori dei Paesi vicini che ogni giorno vanno a lavorare in Svizzera. La maggioranza della popolazione è **cristiana**, ma per molti la religione non è più un aspetto importante della vita.

Colora sulla cartina la Svizzera



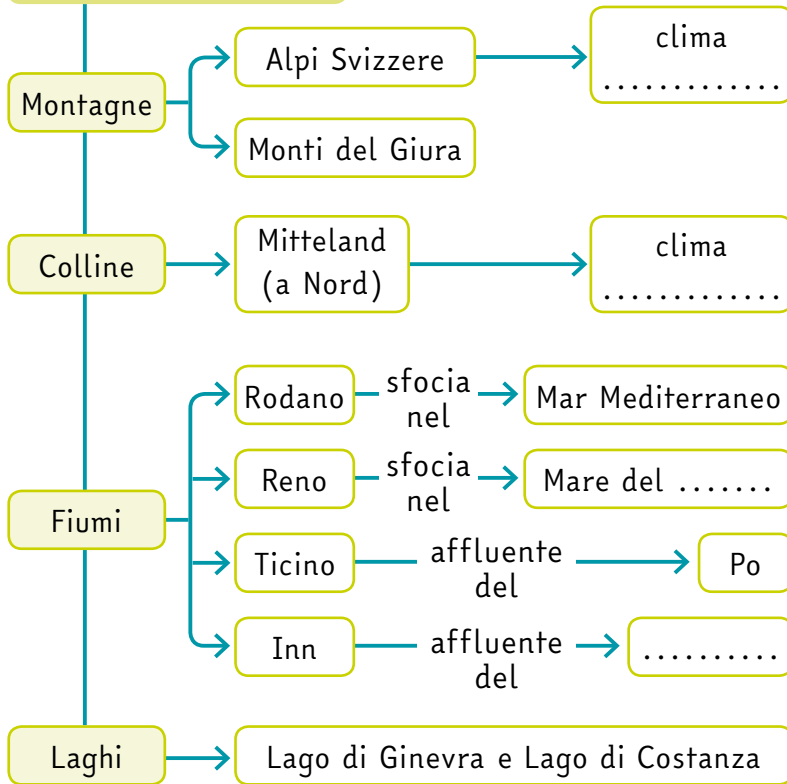
Economia

La Svizzera non ha risorse minerarie e il suo territorio è poco adatto all'agricoltura. I terreni vengono utilizzati soprattutto per l'**allevamento**. L'economia svizzera si basa sull'**esportazione** di prodotti tecnologici e di lusso. Il settore più importante è il **terziario**, soprattutto per la presenza di numerose assicurazioni e banche.

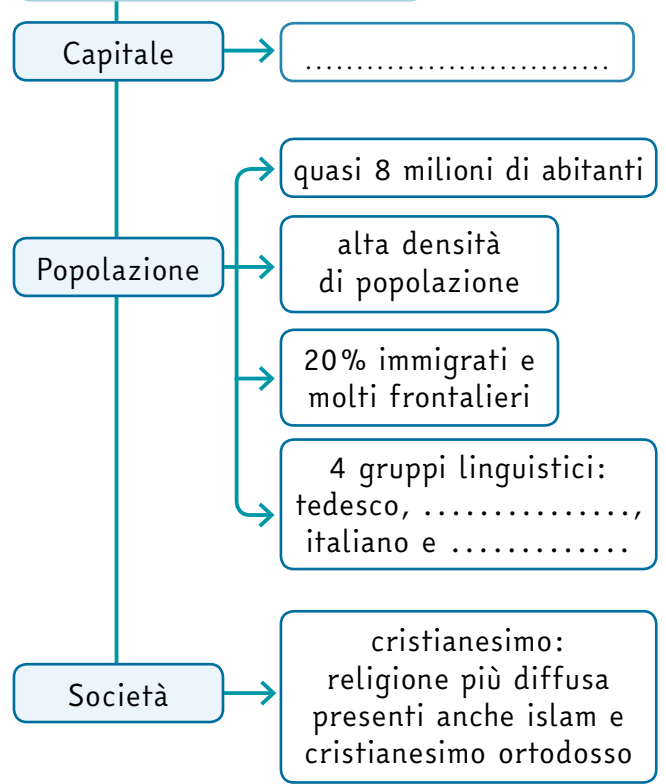


● Il Monte Cervino visto da una località nel sud della Svizzera.

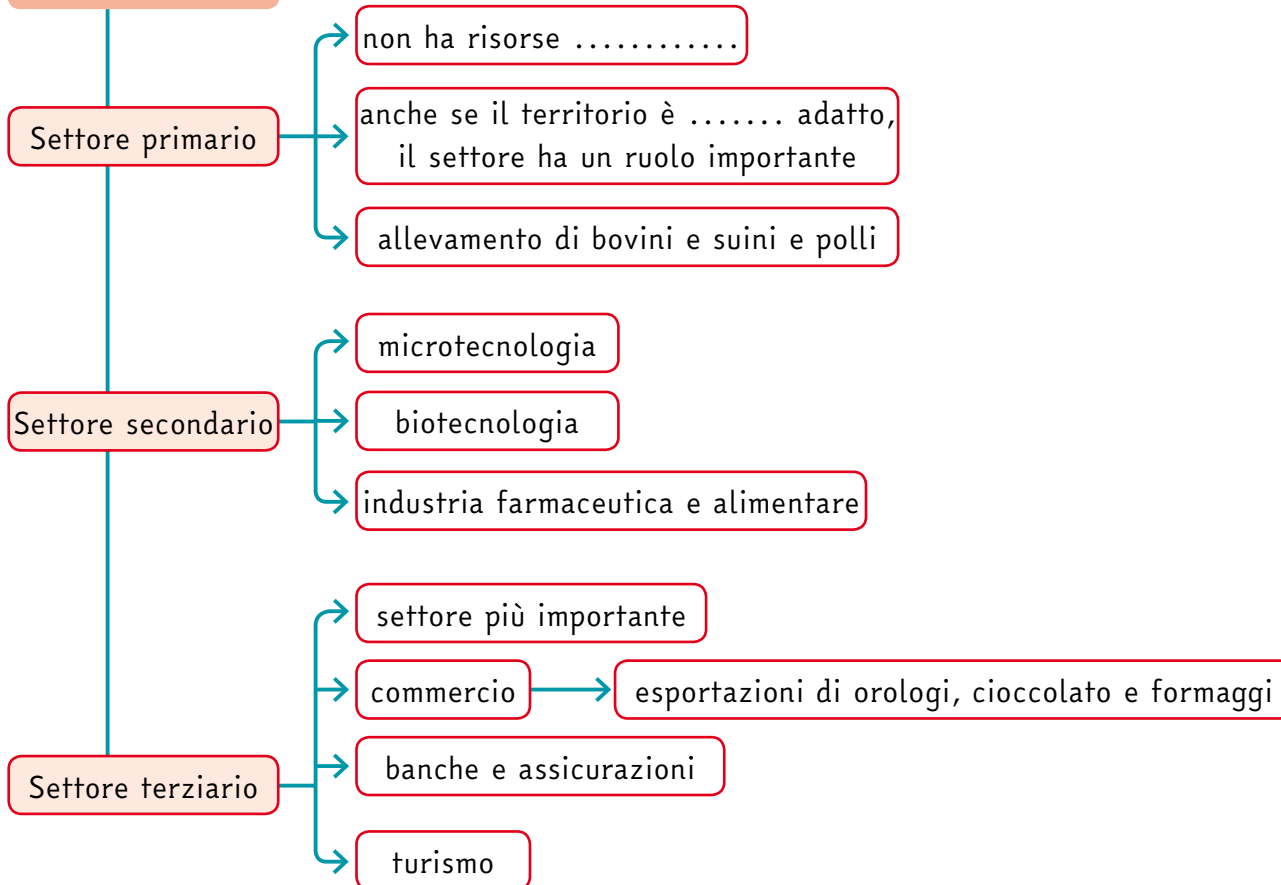
TERRITORIO E CLIMA



POPOLAZIONE E SOCIETÀ



ECONOMIA



L'Austria è una **repubblica federale** composta da 9 Stati, nata dopo la Prima guerra mondiale.

La capitale, **Vienna**, sorge nella Valle del Danubio.

Territorio e clima

L'Austria occupa la parte settentrionale della zona alpina. Il territorio è in gran parte **montuoso** e senza sbocchi sul mare.

A est e a nord si trovano due estese zone pianeggianti: la **Valle del Danubio** e parte della **Pianura Ungherese**.

Il clima è **continentale** nelle zone pianeggianti e collinari, mentre è **alpino** sui monti.

Popolazione e società

L'Austria ha poco più di **8 milioni di abitanti**. La popolazione si concentra nelle zone delle **valli**. L'Austria è il secondo Paese nell'Unione Europea per presenza di **stranieri**.

Essi sono il **9% della popolazione** e provengono soprattutto dall'Europa dell'Est.

La religione principale è il **cattolicesimo**, ma sono sempre di più i non praticanti.

Le minoranze religiose (protestante e musulmana) sono in aumento.

Colora sulla cartina l'Austria



Economia

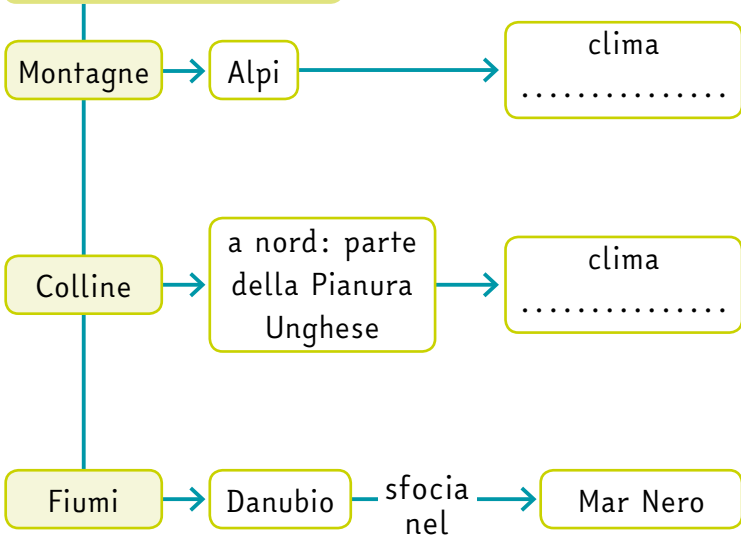
L'Austria ha sufficienti quantità di risorse minerarie. Per produrre energia, l'Austria usa i propri **giacimenti di petrolio e gas**, e le proprie **centrali idroelettriche**.

Grazie alla posizione strategica per il commercio e le comunicazioni, il **settore dei servizi** è il settore economico più importante dell'economia austriaca.

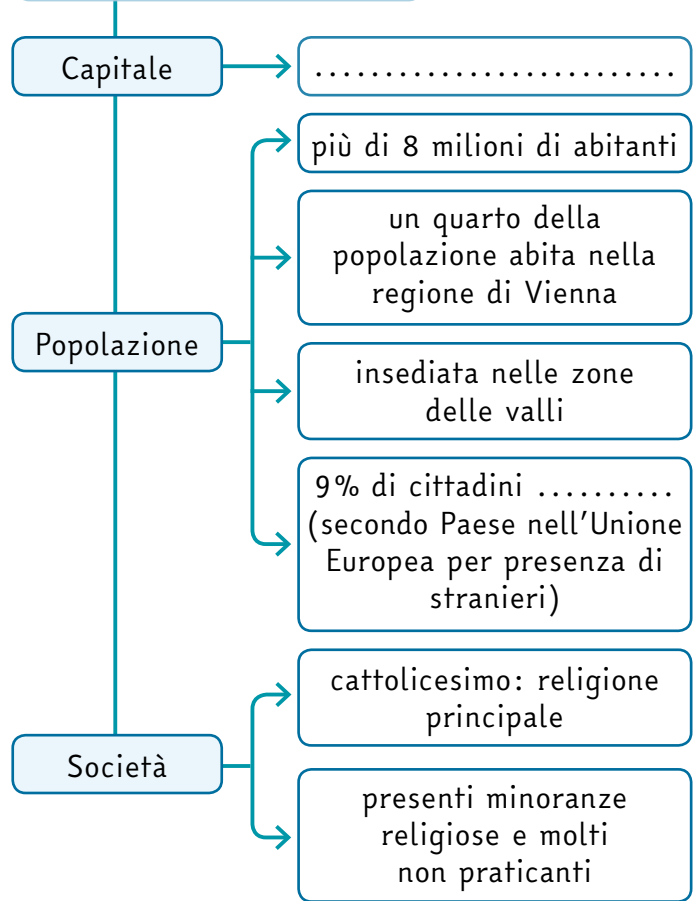


● Salisburgo, città vicina al confine tedesco.

TERRITORIO E CLIMA



POPOLAZIONE E SOCIETÀ



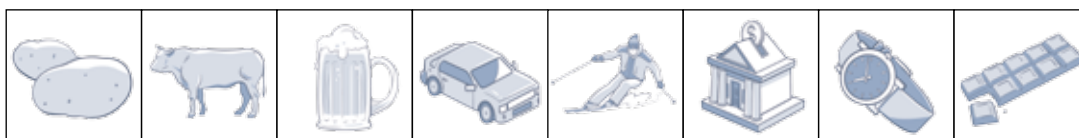
ECONOMIA



COSTRUISCI CARTE TEMATICHE

1. Costruisci le carte. Inserisci nella carta il numero corrispondente al nome dei luoghi. Poi collega con una freccia i simboli delle attività economiche allo Stato o agli Stati in cui sono praticate. Per fare questa attività cerca le informazioni sul libro **PROSPETTIVE** di popoli e scenari 2 alle pagine 122-143, osservando le carte fisiche e leggendo i paragrafi relativi all'economia.

- 1. Berna
- 2. Vienna
- 3. Mar Baltico
- 4. Elba
- 5. Berlino
- 6. Vaduz
- 7. Bassopiano Germanico
- 8. Reno



1. Costruisce una carta tematica. Leggi i dati sulla densità di popolazione contenuti nella tabella. Poi colora sulla carta ciascuno Stato, utilizzando i colori della tabella.

Stato	Densità
Meclemburgo-Pomerania Anteriore	74
Brandeburgo	87
Sassonia-Anhalt	121
Turingi	144
Bassa Sassonia	168
Baviera	177
Schleswig-Holstein	179
Renania-Palatinato	204
Sassonia	232
Assia	289
Baden-Württemberg	300
Saarland	409
Renania Settentrionale-Vestfalia	530
Brema	1.641
Amburgo	2.310
Berlino	1.806



2. Analizza una carta tematica. Ora analizza la carta tematica che hai costruito e completa il testo. Poi rispondi alla domanda.

Gli Stati tedeschi con la maggiore densità di popolazione sono ,
 e
 Gli Stati tedeschi con la minore densità di popolazione sono e
 Gli Stati con la maggiore densità di popolazione sono localizzati a
 della Germania. Gli Stati con la minore densità di popolazione sono
 posizionati a della Germania.

Quali possono essere i motivi della diversa distribuzione della popolazione?

Cerca le risposte nel tuo libro PROSPETTIVE di popoli e scenari 2 alle pagine 128 e 134 e rispondi sul quaderno.